

**ДЕМОНСТРАЦИОННЫЙ ВАРИАНТ ПО МАТЕМАТИКЕ  
ДЛЯ 1 КЛАССА**

Школа \_\_\_\_\_ Класс 1 \_\_\_\_\_

Фамилия, имя \_\_\_\_\_

- 
1. Рассмотри числа. Запиши их от самого маленького к самому большому.

12, 17, 9, 10

Ответ: \_\_\_\_\_

- 
2. Выполни действие. Запиши ответ.

$16 - 9$

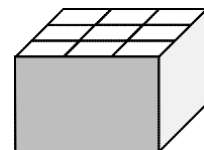
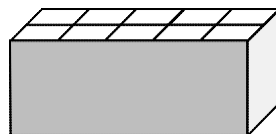
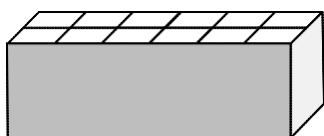

Ответ: \_\_\_\_\_

- 
3. Выполни действие. Запиши ответ.

$13 + 6$

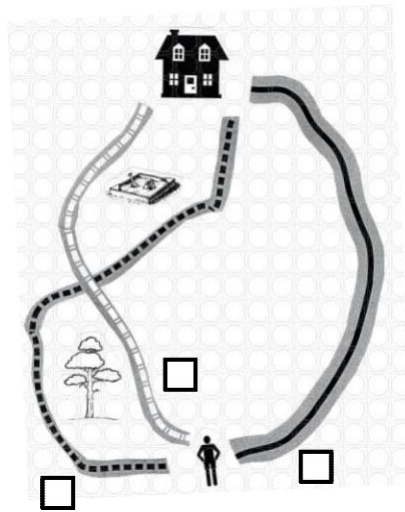
Ответ: \_\_\_\_\_

- 
4. У Миши солдатики. В какую коробку он может их сложить, если в каждую ячейку можно положить только одного солдата и все ячейки должны быть заняты? Отметь коробку .





9. Мише надо пройти к дому. По какой дороге ему надо пойти, чтобы сосна была справа, а песочница – слева? Отметь .



10. Выбери число, которое на 4 больше, чем 9. Отметь .

5

9

13

14

11. Вася наловил рыбы для кошки. Рыб больше 9, но меньше 12. Сколько рыб мог поймать Вася?

Ответ: \_\_\_\_\_

12. Гена сложил несколько одинаковых чисел и получил в ответе 8.

Какие числа сложил Гена?

Решение 1: \_\_\_\_\_

Решение 2: \_\_\_\_\_

Решение 3: \_\_\_\_\_

